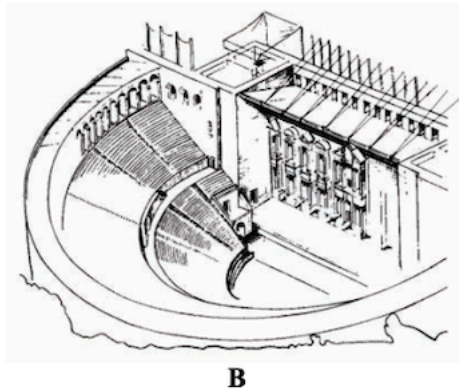
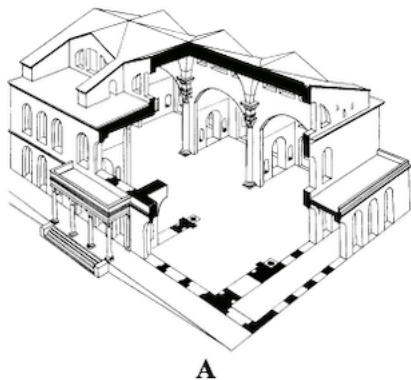


1.

**Zadanie 19. (3 pkt)**

Rozpoznaj przedstawione na ilustracjach budowle starożytnego Rzymu. Podaj:

- a) nazwę typu budowli,
- b) funkcję, którą budowla pełniła.



a) .....

a) .....

b) .....

b) .....

2.

**Zadanie 25. (1 pkt)**

Przyjrzyj się ilustracji wykonanej w XIX wieku, która w komiczny sposób ukazuje wydarzenie z historii starożytnego Rzymu.



Wybierz i podkreśl temat ilustracji.

- Porwanie córek Leukippa, Przysięga Horacjuszy, Porwanie Sabineek

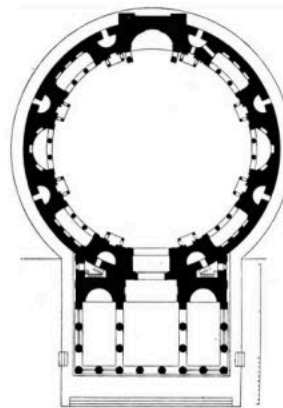
3.

**Zadanie 18. (8 pkt)**


Na podstawie czterech ilustracji zabytku wykonaj polecenia.



A



B



C



D

a) Opisz plan i układ przestrzenny budowli, podając 4 cechy. (3 pkt)

.....

.....

.....

.....

b) Opisz bryłę i dekorację budowli, podając 4 cechy. (3 pkt)

.....

.....

.....

.....

c) Nazwij budowlę oraz krąg kulturowy lub styl, w jakim ją wybudowano. (2 pkt)

.....

.....